



وزارة التربية



إدارة الشؤون التعليمية
مراقبة الامتحانات وشؤون الطلبة



نموذج الإجابة

المرحلة المتوسطة

(صعوبات التعلم)

اختبارات نهاية الفصل الدراسي الثاني

المادة : الاجتماعيات

الصف : السادس

العام الدراسي

2016 / 2017



وزارة التربية

العام الدراسي : ٢٠١٦-٢٠١٧م

امتحان نهاية الفصل الدراسي الثاني

منطقة مبارك الكبير التعليمية مادة الكويت ودول الخليج العربية

الزمن : ساعة وخمس وأربعون

عدد الأوراق : ٥

للتوجيه الفني للإجتماعيات للصف السادس المتوسط



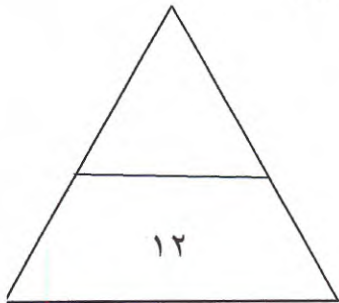
السؤال الأول : موضوعي و يتكون من (أ - ب) :- ١٢ × ١ = ١٢ درجات

أ) اختر الإجابة الصحيحة للعبارات التالية من بين الخيارات التي تلي كلا منها وضع خطا تحتها :-

- ١- بدأ التنقيب عن النفط في دولة الكويت في عام . ص ٨٧
أ- ١٩٣٤م ب- ١٩٣٥م ج- ١٩٣٦م د- ١٩٣٧م
- ٢- توجد حضارة تاروت في دولة خليجية تسمى . ص ١٠٥
أ- الكويت ب- السعودية ج- البحرين د- قطر
- ٣- أكثر دولة خليجية في الكثافة السكانية تسمى . ص ١١٤
أ- عمان ب- قطر ج- البحرين د- الكويت
- ٤- الدولة الخليجية التي لم تتعرض للإستعمار الأجنبي تسمى . ص ١٢٠
أ- السعودية ب- الكويت ج- عمان د- البحرين
- ٥- تم إصدار اعلان الدوحة بشأن قيام السوق الخليجية المشترك في عام . ص ١٣٠
أ- ٢٠٠٥م ب- ٢٠٠٦م ج- ٢٠٠٧م د- ٢٠٠٨م
- ٦- عدد الآبار النفطية التي أشعلها النظام العراقي البائد تقدر ب . ص ١٣٩
أ- ٦٣٦ ب- ٧٣٧ ج- ٨٣٨ د- ٩٣٩

ب) أكمل العبارات التالية بما يناسبها مما درست :

- ١- يجتمع وزراء التربية والتعليم في دول الخليج العربية لوضع السياسات التربوية كل . عامين ص ١٣٠
- ٢- أقل دولة خليجية في نسبة المواطنين تسمى . الإمارات ص ١١٢
- ٣- الدولة الخليجية التي تحتل المركز الأول في عدد السكان تسمى . السعودية ص ١١٤
- ٤- أنشأ مجلس التعاون الخليجي قوات درع الجزيرة في عام . ١٩٨٤م ص ١٢٩
- ٥- تعرضت دولة الكويت للغزو العراقي في عام . ١٩٩٠م ص ١٣٩
- ٦- توجد منطقة سهل الباطنة الزراعية في دولة تسمى . عمان ص ٩٢



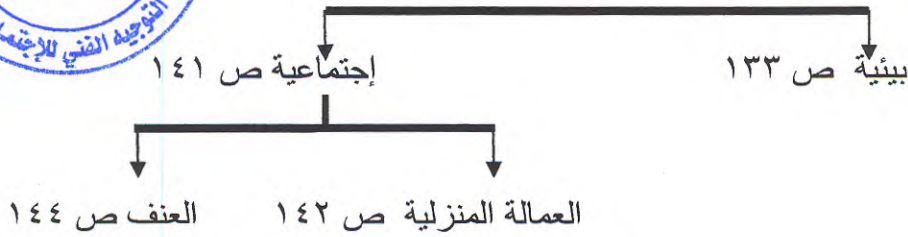
الدرجة بالحروف

السؤال الثاني : موضوعي و يتكون من (أ - ب) :- $12 \times 1 = 12$ درجات

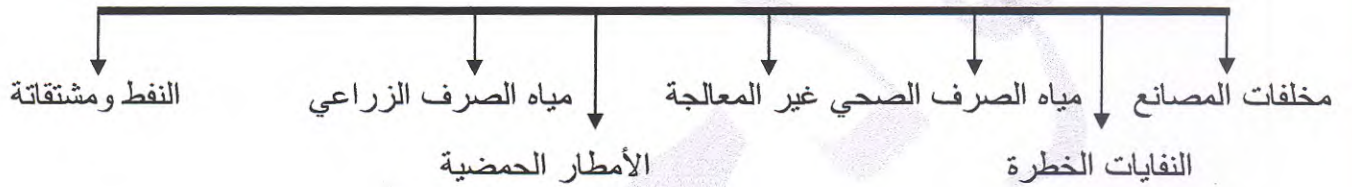
(أ) املأ الفراغ في المخططات السهمية التالية بما يناسبها مما درست :



١- المشكلات التي تواجه دول الخليج العربية ص ١٣٣

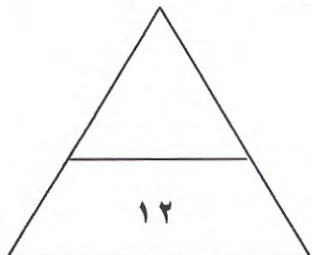


٢- أسباب التلوث البحري ص ١٣٦ (يكتفى ٣ نقاط)



(ب) أكتب المفاهيم والمصطلحات الدالة على العبارات التالية :-

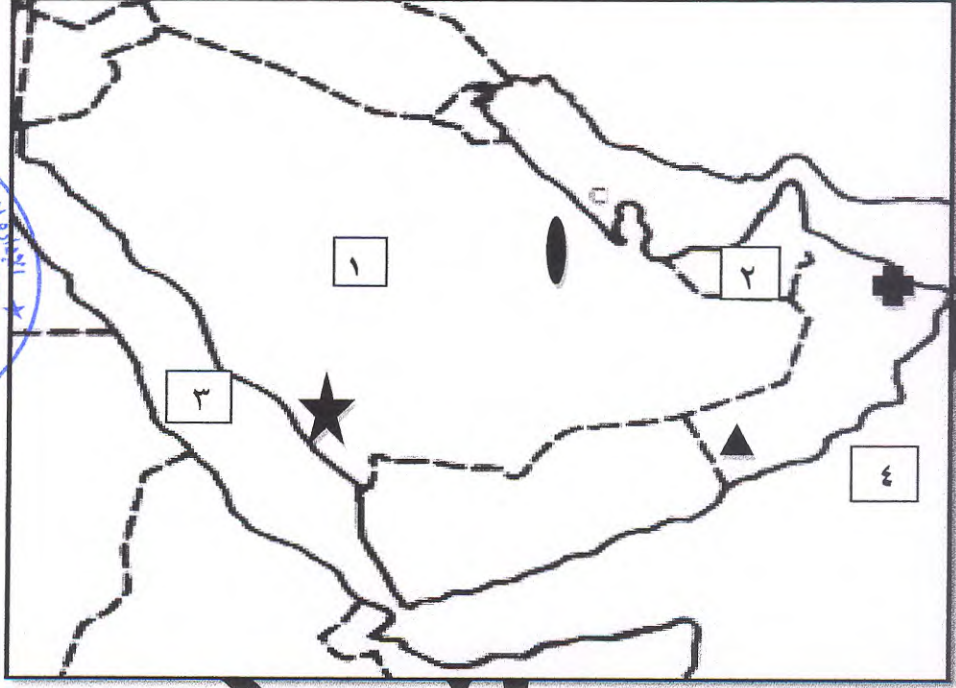
- ١- (الصناعة) تحويل مواد الخام الى مواد يمكن الإستفادة منها . ص ٩٥
- ٢- (النمو السكاني) هو التغيير الذي يحدث لعدد السكان نتيجة للزيادة الطبيعية والغير طبيعية . ص ١١٦
- ٣- (الكثافة السكانية) عدد السكان في الكيلو متر المربع وتقاس بقسمة عدد السكان على مساحة الدولة . ص ١١٤
- ٤- (التلوث) الضرر الذي يصيب عناصر البيئة الأساسية (هواء - ماء - تربة) . ص ١٣٣
- ٥- (طبقة الأوزون) درع واق للأحياء ضد الأشعة فوق البنفسجية الضارة . ص ١٣٥
- ٦- (تلوث ضوضائي) أصوات غير متجانسة تجتاز شدتها المعدل الطبيعي المسموح به للإذن . ص ١٣٤






الدرجة بالحروف

السؤال الثالث : موضوعي و يتكون من (أ - ب) :- $12 \times 1 = 12$ درجات

أ) لاحظ خريطة دول الخليج العربية الصماء ثم أكتب الرقم أو الرمز الدال على العبارات التالية :-

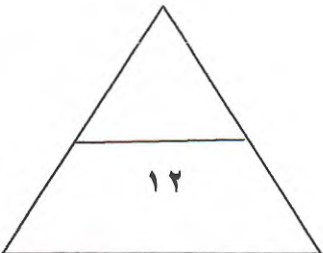


- حقل الغوار النفطي يمثله الرمز  ص ٩١
- الدولة الرائدة في إنتاج محصول القمح يمثله الرقم ١ ص ٩٢
- حضارة هيلي يمثله الرقم ٢ ص ١٠٥
- ميناء الفحل يمثله الرمز  ص ٩٦
- البحر الأحمر يمثله الرقم ٣ ص ٩٢
- سهل تهامة يمثله الرمز  ص ٩٢

ب) صنف الهجرات الآتية حسب مكانها الصحيح في الجدول التالي :- ص ١٠٨

(ال الصباح - ال خليفة - المعاضيد - ال بوسعيد واليعاربة - القواسم - بني ياس)

الهجرة	المعاضيد	ال بو سعيد واليعاربة	القواسم	ال الصباح	ال خليفة	بني ياس
منطقة الإستقرار	قطر	عمان	رأس الخيمة	الكويت	البحرين	أبو ظبي



الدرجة بالحروف

السؤال الرابع : مقالى و يتكون من (أ - ب - ج) :- لكل نقطة درجة ١٢ = ١ × ١٢ درجات

(أ) علل ما يلى :-



- ١- قيام دول الخليج العربية بإقامة العديد من الموانئ النفطية . ص ٩٠
- تزايد الإنتاج النفطي .
 - تزايد الطلب العالمي عليه كمصدر للطاقة .

- ٢- شهدت منطقة الخليج العربية بعد اكتشاف النفط نموا سكانيا . ص ١١٠ (يكتفى بنقطتين)
- ارتفاع دخل الفرد - توفر الرعاية الصحية - توفر فرص العمل .

(ب) أكتب فى نقطتين عما يلى :

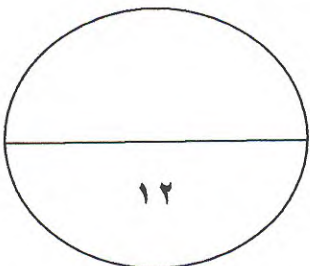


- ١- الروابط التي تربط بين سكان دول الخليج العربية . ص ١١٧ (يكتفى بنقطتين)
- وحدة الأصل - الدين واللغة - العادات والتقاليد - التاريخ المشترك

- ٢- التحديات التي تواجه دول الخليج العربية . ص ١٣٢ (يكتفى بنقطتين)
- الغزو الثقافي - الإعتماد على الموارد النفطية فقط - الأخطار الخارجية والداخلية - الأمن الغذائي - التلوث البيئي - ندرة المياه الجوفية .

(ج) فرق بين كلا مما يلى :

الواردات	الصادرات
ص ٩٩	
البضائع والسلع التي تشتريها دولنا من الخارج	السلع والمنتجات التي تبيعها دولنا في الخارج
احتياطي النفط ص ٨٨	انتاج النفط
كميات النفط المخزونة في باطن الأرض	كميات النفط التي يتم استخراجها للإستفادة منها



الدرجة بالحروف

السؤال الخامس : مقال و يتكون من (أ - ب - ج) :- لكل نقطة درجة ١٢ = ١ × ١٢ درجات
(أ) قارن بين مظاهر التعاون لدول الخليج العربية في المجالات التي بالجدول أمامك :-

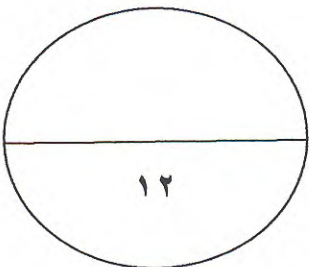
العسكري ص ١٢٩	السياسي
<ul style="list-style-type: none">المنورات والتدريبات العسكرية المختلفةإنشاء قوة مشتركة تضم جميع دول مجلس التعاون الخليجي (درع الجزيرة)قبول أبناء دول مجلس التعاون في الكليات العسكرية	<ul style="list-style-type: none">ادانة احتلال الجزر الإماراتية الثلاثمناصرة القضايا العادلة مثل قضية فلسطينتوحيد الموقف السياسي الخليجي تجاه عدوان النظام العراقي على دولة الكويت

(ب) عرف المفاهيم التالية :

- ١- **السلالة :** مجموعة من الناس تشترك فيما بينها في الصفات الجسمانية الرئيسية كلون الجلد وشكل الأنف والعين وطول القامة . ص ١٠٦
- ٢- **الدخل القومي :** مجموع الدخول التي تحصل عليها الدولة خلال عام . ص ٩٥
- ٣- **ترانزيت :** إعادة تصدير البضائع المستوردة . ص ٩٩
- ٤- **الثقافة :** مجموعة من العادات والتقاليد والقيم في مجتمع من المجتمعات . ص ١١٨

(ج) أكتب النتائج المترتبة على ما يلي :

- ١- **اشعال الآبار النفطية في دولة الكويت . ص ١٣٩ (يكتفى بنقطتين)**
 - خروج كميات كبيرة من الدخان محدثا تلوث هوائي – تساقط الرذاذ النفطي على التربة محدثا تلوث أرضي – الآثار الخطرة على صحة الإنسان والكائنات الحية .
- ٣- **تلوث التربة . ص ١٣٤ (يكتفى بنقطتين)**
 - ضعف قدرتها على الإنتاج الزراعي – تلوث الإنتاج الزراعي مما يؤثر على صحة الإنسان .



الدرجة بالحروف